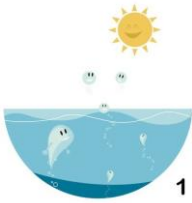


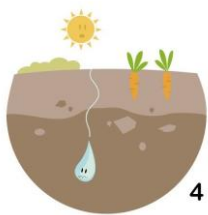





NOM : _____

LA DESCRIPTION DU CYCLE DE L'EAU

CLASSE : _____

LE CYCLE DE L'EAU	Nom et description de l'étape :	Changement d'état :
 <p>1</p>		<input type="text"/> → <input type="text"/>
 <p>2</p>		<input type="text"/> → <input type="text"/> <input type="text"/> → <input type="text"/>
 <p>3</p>		
 <p>4</p>		
 <p>5</p>		
 <p>6</p>		
 <p>7</p>		